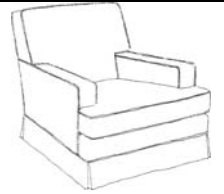


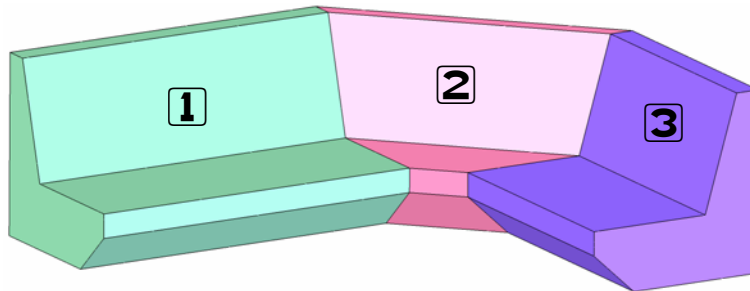
canapé d'angle 1/2

DESSIN TECHNIQUE



CAP
Tapiserie

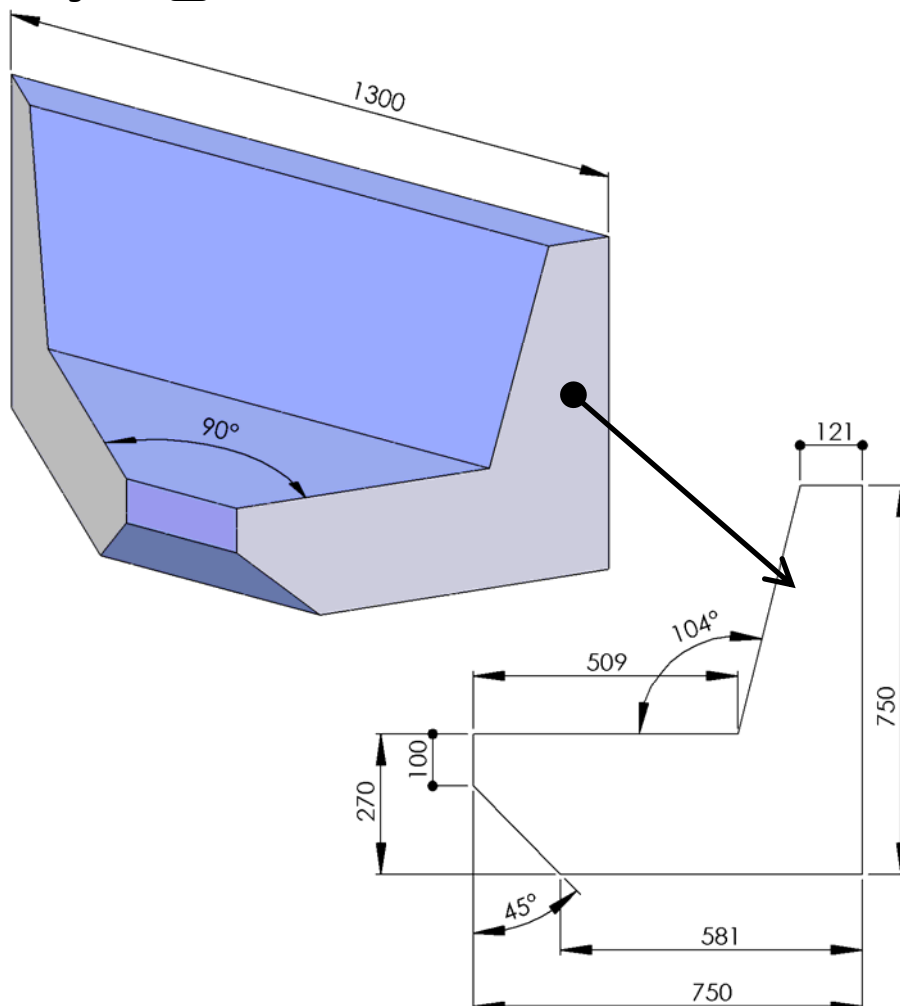
On souhaite rénover la housse d'un canapé composé de trois éléments :

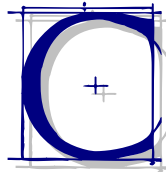


(1 et 3 peuvent être utilisés séparément)

1 : canapé 3 places ; 3 : canapé 2 places ; 2 : angle.

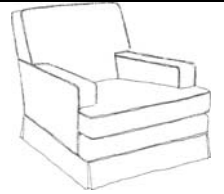
L'étude porte sur l'angle N° 2 :





Canapé d'angle 2/2

DESSIN TECHNIQUE




CAP
Tapisserie

Travail demandé :


 Représenter l'angle en vues de face, gauche et dessus à l'échelle 1:10 sur format A3

Pour diminuer les coûts de fabrication, l'angle n'est composé que de trois pièces : 2 joues identiques et une 3^{ème} pièce (partie hachurée) faisant tout le tour (dos et dessous compris).



Angle seul

 Représenter la joue de l'angle en vraie grandeur à l'échelle 1:10

 Représenter le 1/2 développé de la 3^{ème} pièce à l'échelle 1:10

Mise en page :

